

Geografia Klasa 5
(środa 29.04.2020r.)

Witam

Temat: **Strefy klimatyczne i krajobrazowe**

Korzystając z podręcznika i atlasu geograficznego proszę o uzupełnienie karty pracy i ćwiczeń do tego tematu.

Proszę odesłać wykonane zadania

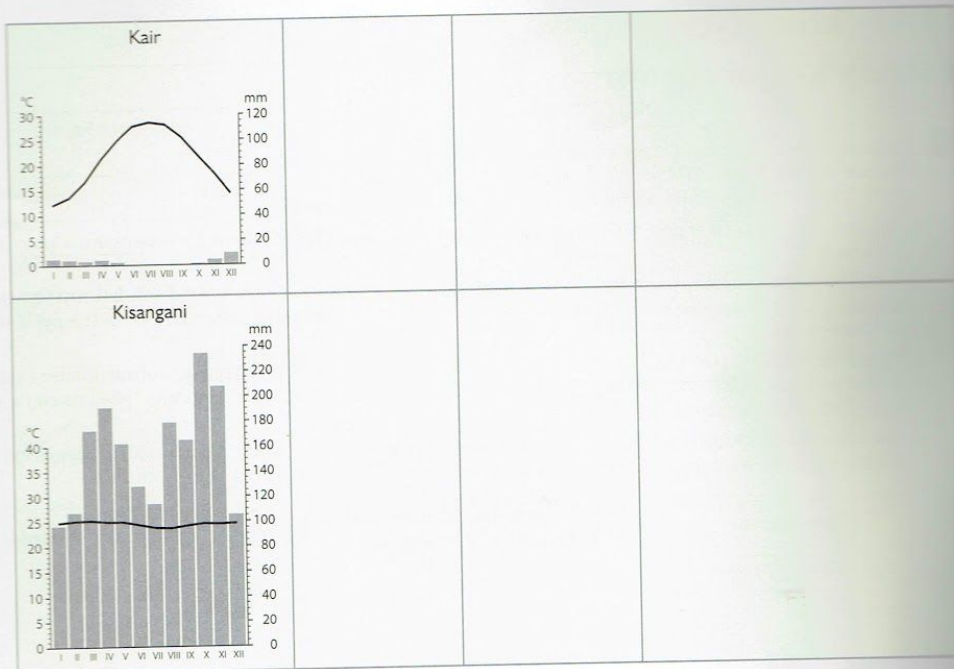
Strefy klimatyczne i strefy krajobrazowe

I Uzupełnij tabelę dotyczącą stref klimatycznych oraz stref krajobrazowych na Ziemi. Wykorzystaj informacje z podręcznika (s. 108, 110 i 111) oraz mapy w atlasie geograficznym.


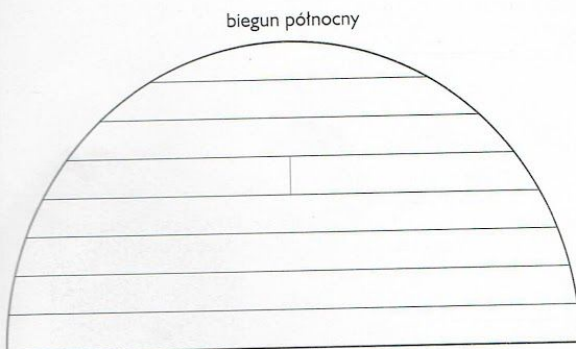
- Odszukaj na mapach w podręczniku lub atlasie miejscowości, których nazwy wymieniono w pierwszej kolumnie.
- Ustal na podstawie mapy zamieszczonej w podręczniku (s. 108), w których **strefach klimatycznych** znajdują się wymienione miejsca. Następnie wpisz do drugiej kolumny tabeli nazwy ustalonych stref klimatycznych.
- Wskaż na mapie w podręczniku (s. 110) położenie wymienionych w pierwszej kolumnie miejsc i ustal, w jakich **strefach krajobrazowych** one leżą. Następnie wpisz do trzeciej kolumny tabeli nazwy ustalonych stref krajobrazowych.
- Odszukaj na ilustracji w podręczniku (s. 111) ustalone w punkcie c strefy krajobrazowe i przyjrzyj się ich fotografiom. Następnie napisz w czwartej kolumnie, jak klimat wpływa na roślinność.

imię i nazwisko	
klasa	data

Klimatogram	Nazwa strefy klimatycznej	Nazwa strefy krajobrazowej	Wpływ klimatu na roślinność
<p>Przyłądek Czeluskin</p>			
<p>Warszawa</p>			
<p>Londyn</p>			



- 2** Wykonaj polecenia na podstawie ilustracji z podręcznika (s. 111).
- Zamaluj na schemacie różnymi kolorami strefy krajobrazowe wymienione w tabeli w zadaniu 1. (Na schemacie wykonaj legendę).
 - Wpisz w odpowiednich strefach krajobrazowych na schemacie nazwy miejsc, które są wymienione w zadaniu 1.
 - Podpisz pozostałe strefy krajobrazowe.



Kra i pu

1 Wpisz
żej
z at
i kr

Azja
7. Nę
Pias

2 Rozp
Pust,
Pust,
Pust,

3 Uzu
nim t



